




Mes cartes mentales.fr



# MES P'TITS EXERCICES



SPÉCIAL JEUX  
OLYMPIQUES



# 01 JE RÉVISE LE FRANÇAIS



Retrouve le verbe à l'infinitif pour chaque dessin.



Colorie le radical de chaque verbe.

N A G E R

S A U T E R

D A N S E R

G A G N E R

E N T R A Î N E R



Relie chaque indicateur de temps à la phrase qui lui correspond.

Dans 10 minutes...

Tout petit...

Pour l'instant...

... je jouais  
au tennis.



... je joue au  
football.



... je jouerai  
au basket.



Colorie le groupe nominal qui correspond au pronom personnel écrit dans le nuage.

ILS

ELLE

NOUS

VOUS

ELLES

les français

les athlètes

Fred et Florent

toi et moi

les nageuses

les femmes

l'équipe

Laure et moi

les espagnols

la médaille

le vainqueur

les judokas

les filles et toi

Hugo et toi

les gagnants

le nageur


l'entraîneur

les belges


eux

les joueurs

# 02 JE RÉVISE LE FRANÇAIS



Indique le sujet et le verbe de chaque phrase.



Nous gagnerons de nombreuses médailles aux Jeux olympiques.

.....  
.....

.....  
.....



Avec soixante-neuf points, l'équipe de France remporte le match.

.....  
.....

.....  
.....



Jean s'est beaucoup entraîné pour courir le marathon.

.....  
.....

.....  
.....



Mets chaque groupe nominal au pluriel.



un beau match

.....  
.....



la grande cérémonie

.....  
.....



ce cheval blanc

.....  
.....



un athlète célèbre

.....  
.....



Complète avec le sujet de ton choix.

- \* ..... font de la gym.
- \* Voyez-..... mon sac de sport ?
- \* ..... ne jouait pas.
- \* Après l'épreuve de natation, .....  
..... étaient très fatiguées.
- \* ..... danses drôlement bien !



Complète avec le verbe conjugué de ton choix.

- \* L'athlète ..... beaucoup.
- \* Mardi, maman et toi .....  
..... l'épreuve de gymnastique.
- \* Tu ..... toujours !
- \* Demain, elle ..... une médaille.
- \* Le cycliste ..... très vite.


# 03 JE RÉVISE LES MATHS



Combien y a-t-il de médailles d'or ? Commence par faire des paquets de 10 médailles puis inscris le nombre de dizaines et le nombre d'unités restantes dans le tableau.



Les Jeux sont terminés ! Le pays a gagné 22 médailles d'or, 19 médailles d'argent et 13 médailles de bronze. Au total, combien de médailles ont été gagnées ?



**1**

JE RECHERCHE :

.....

.....

.....

**2**

L'OPÉRATION EST :

**3**

LA PHRASE RÉPONSE EST :


.....

.....

.....



Trace les roues du vélo en suivant les consignes.




**CONSIGNES**

- \* Trace un cercle de centre A et de rayon 3 cm.
- \* Trace 8 rayons sur la roue avant : [AB], [AC], [AD], [AE], [AF], [AG], [AH], [AI].
- \* Trace un cercle de centre M et de rayon 2 cm.
- \* Trace 4 diamètres sur la roue arrière.

# 04 JE RÉVISE LES MATHS



Indique qui a lancé sa balle le plus loin, et qui l'a lancée le moins loin.




.....  
a lancé la balle le plus loin.

.....  
a lancé la balle le moins loin.




Perpendiculaires, parallèles ou sécantes ? Complète les phrases.

Dans le drapeau danois,  
les bandes blanches sont



Dans le drapeau jamaïcain,  
les deux bandes jaunes sont



Dans le drapeau grec,  
les bandes bleues sont



Dans le drapeau canadien,  
les deux bandes rouges sont




Indique si les affirmations suivants sont vraies ou fausses.




- Un quadrilatère a 3 côtés.
- Le rayon est égal à 2 fois le diamètre.
- Un cube est un polygone.
- Le biathlon combine 3 épreuves.
- Le triangle isocèle possède 2 côtés égaux.



- Les bases d'un cylindre sont de forme circulaire.
- Un carré possède 4 diagonales.
- Un cercle est un polygone.
- Un hexagone a six côtés.
- Deux droites parallèles entre elles forment un angle droit.



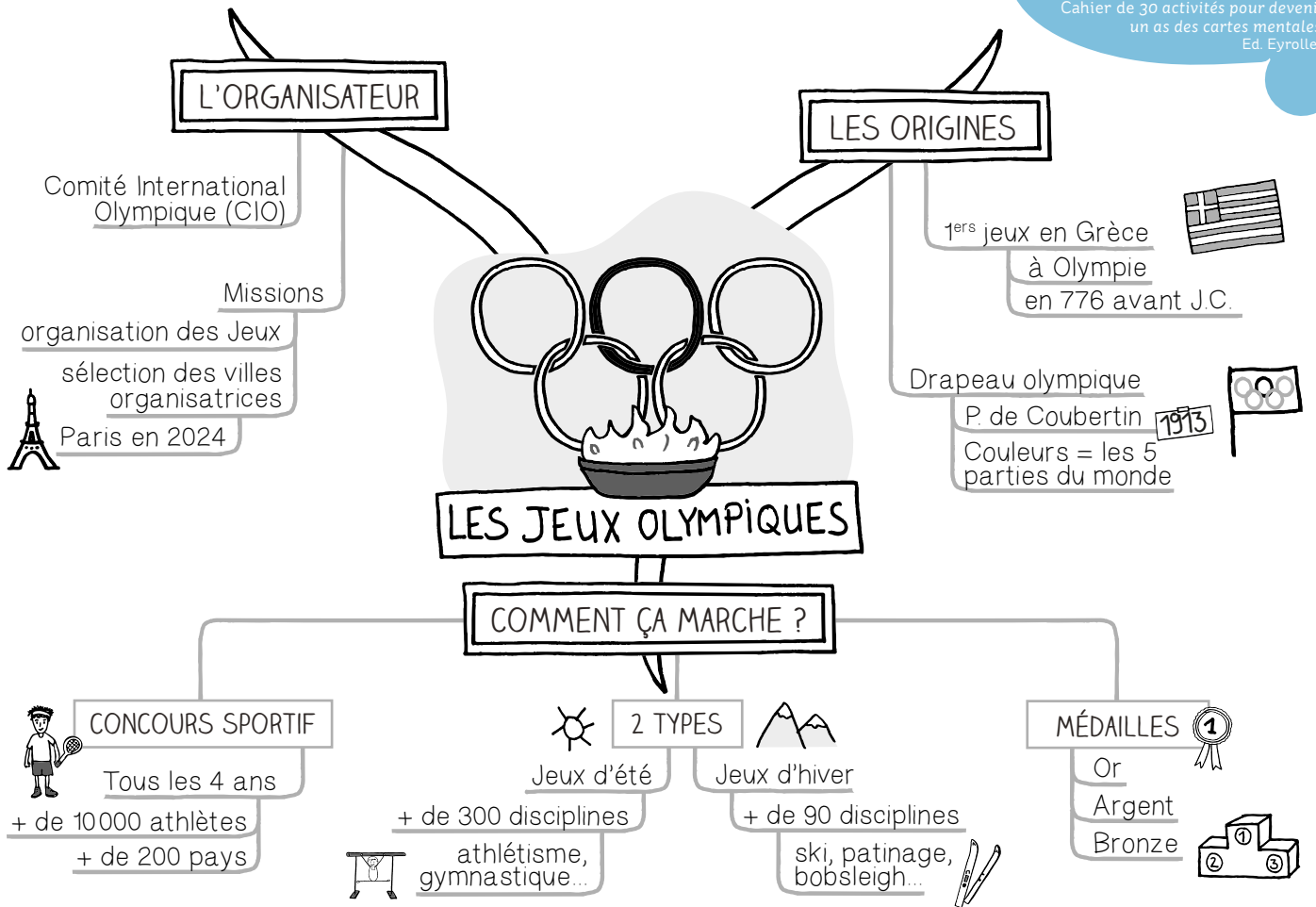
# 05 À TOI DE JOUER !



Toi aussi, deviens un champion... des cartes mentales ! Lis la carte mentale ci-dessous, colorie-la puis réponds aux questions.

## Les Jeux olympiques

Cahier de 30 activités pour devenir un as des cartes mentales, Ed. Eyrolles




[www.mescartesmentales.fr](http://www.mescartesmentales.fr)

① En quelle année ont eu lieu les premiers jeux Olympiques ?  
.....


② Pourquoi les anneaux du drapeau ont des couleurs différentes ?  
.....

③ Combien de disciplines sont proposées lors des jeux Olympiques d'été ?  
.....

④ Qui organise les jeux Olympiques ?  
.....







## 1. Je révise le français

### POUR T'AIDER


Utilise les cartes mentales de ton coffret de français cycle 2 (CP, CE1, CE2).



#### Exercice 1

Nager ; courir ; boxer ; respirer.

#### Exercice 2



#### Exercice 3

Dans 10 minutes, je **jouerai** au basket.

Tout petit, je **jouais** au tennis.

Pour l'instant, je **joue** au football.

#### Exercice 4

Ils = **les français** ; Elle = **l'équipe** ;

Nous = **Laure et moi** ; Vous = **Hugo et toi** ;

Elles = **les nageuses**.

## 2. Je révise le français

### POUR T'AIDER

Utilise les cartes mentales de ton coffret de français cycle 3 (CM1, CM2, 6<sup>e</sup>).



#### Exercice 1

Nous (sujet) **gagnerons** (verbe) ; l'équipe de France **remporte** ; Jean **s'est entraîné**.

#### Exercice 2

**des** beaux matches ; **les** grandes cérémonies ; ces **chevaux** blancs ; **des** athlètes célèbres.

#### Exercice 3

Les élèves ; vous ; Nathan ; les françaises ; Tu.

#### Exercice 4

s'entraînait ; avez vu ; gagnes ; recevra ; roulait.

## 3. Je révise les maths

### POUR T'AIDER

Utilise les cartes mentales de ton coffret de maths cycle 2 (CP, CE1, CE2).



#### Exercice 1

Il y a **23** médailles d'or.

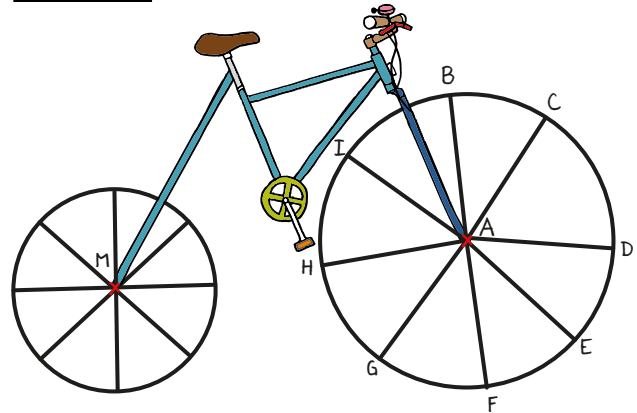
#### Exercice 2

Je recherche **le nombre total de médailles gagnées**. L'opération est  $22 + 19 + 13 = 54$ .

La phrase réponse est :

**Au total, le pays a gagné 54 médailles.**

#### Exercice 3



## 4. Je révise les maths

### POUR T'AIDER

Utilise les cartes mentales de ton coffret de maths cycle 3 (CM1, CM2, 6<sup>e</sup>).



#### Exercice 1

**Inès** a lancé la balle le plus loin.

**Amélie** a lancé la balle le moins loin.

#### Exercice 2

Danois = **perpendiculaires** ; grec = **parallèles** ; jamaïcain = **sécantes** ; canadien = **parallèles**.

#### Exercice 3

Faux ; vrai ; faux ; faux ; vrai.

Vrai ; faux ; faux ; vrai ; faux.



## 5. À toi de jouer !

**Q1.** Les premiers Jeux olympiques ont eu lieu en 776 avant Jésus Christ.

**Q2.** Les anneaux du drapeau ont des couleurs différentes car ils représentent les 5 parties du monde.

**Q3.** Plus de 300 disciplines sont proposées lors des Jeux olympiques d'été.

**Q4.** C'est le CIO (Comité International Olympique) qui organise les Jeux olympiques.

# APPRENDRE AUTREMENT



du CE1  
à la 3<sup>e</sup>

## J'APPRENDS MES LEÇONS AUTREMENT AVEC MES CARTES MENTALES

Pour accompagner votre enfant dans la réalisation de ces exercices (et comme support aux devoirs toute l'année), proposez-lui nos leçons en cartes mentales. La carte mentale est un formidable outil qui facilite l'apprentissage. Grâce aux couleurs et aux dessins, votre enfant retient l'essentiel plus facilement !

Plus d'infos sur [www.mescartesmentales.fr](http://www.mescartesmentales.fr)



La carte mentale est un outil qui permet de représenter l'information de manière simple, synthétique et claire. Elle donne à la fois une vision d'ensemble d'un sujet et une vision détaillée. Elle facilite le repérage et la compréhension globale. Elle est également très utile pour les révisions car elle permet une lecture rapide.

Avec les cartes mentales, l'apprentissage est plus facile et plus ludique ! Du CP à la 3<sup>e</sup>, retrouvez notre collection de coffrets de cartes mentales pour apprendre autrement.



Merci à vous, enfants, parents, enseignants, associations...  
Vous êtes déjà plus de 350 000 à utiliser nos coffrets de cartes mentales !



[Mes cartes mentales.fr](http://Mes cartes mentales.fr)

